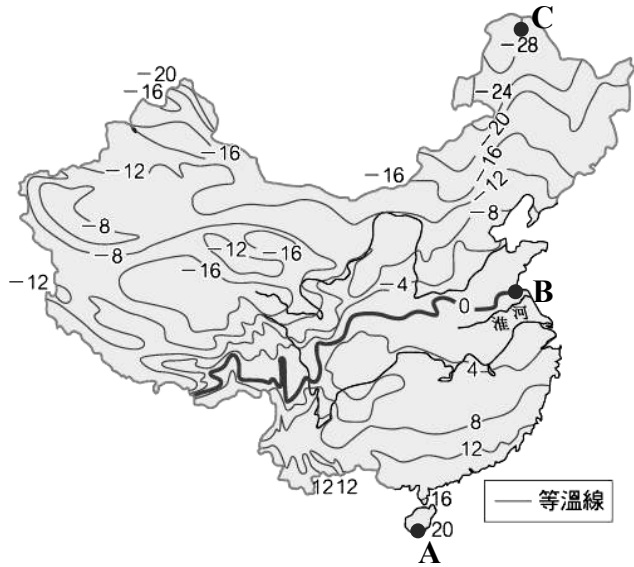


103-1 國八地理隨堂測驗：影響中國氣候的因素

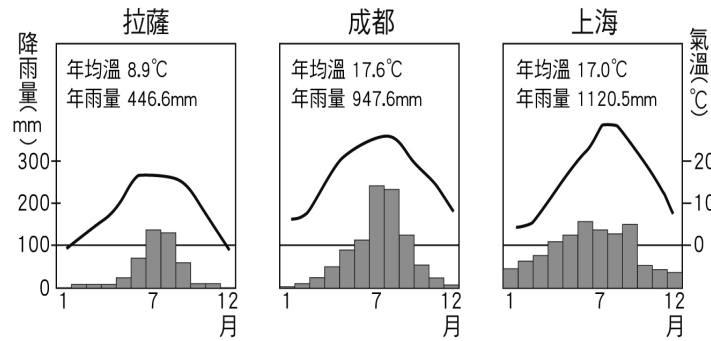
班級：_____ 姓名：_____ 座號：_____

評分

1. 請寫出 A、B、C 三地的氣溫值，並判斷造成三者氣溫差異的氣候因素為何？



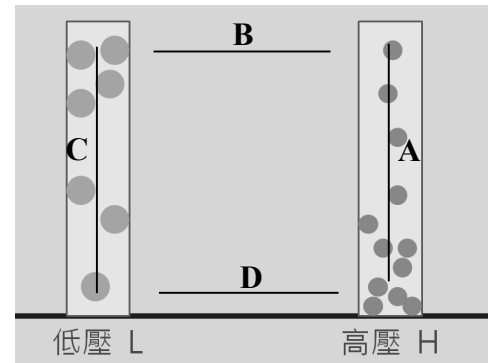
2. 拉薩、成都、上海三個城市的緯度皆位於北緯 30 度左右，但年均溫卻不同。請將三地依年均溫由高至低排序，並說明此現象導因於哪種氣候因素？



3. 氣溫差異會引發氣壓變化。當一地增溫快速，最可能形成高壓或低壓？

4. 海洋與陸地對照下，何者具備夏季增溫快速，冬季降溫快速的特質？

5. 請將 A、B、C、D 四段線段加上正確的箭頭方向，以表示空氣分子的運動方向，並寫下哪一段線段是我們常說的「風」。



6. 下圖以 H、L 分別代表高壓、低壓，→代表風向。何者為中國冬季的情況？

