

學習單一 東南亞地理位置與國家分布

- 一、中南半島包括那些國家？
- 二、南洋群島包括那些國家？
- 三、馬來西亞和印尼是屬於甚麼氣候？
- 四、菲律賓和中南半島是屬於甚麼氣候？
- 五、中南半島上有那些河川？
- 六、為什麼東南亞當地人會說夜間是熱帶的冬天？

學習單二 東南亞殖民歷史與多元文化

- 一、十六世紀葡萄牙人最早佔領哪裡？
- 二、西班牙佔領菲律賓，成立馬尼拉城，將甚麼宗教傳入菲律賓？
- 三、十六世紀末哪一國從葡萄牙人手中取得東印度群島，成立東印度公司，成為侵略東亞及東南亞的據點？
- 四、到十九世紀時東南亞只剩下哪一國是主權獨立國家，剩下國家都被歐洲列強瓜分了，一直到二次世界大戰，最後由日本取代，戰後各國開始宣導自己主權獨立。
- 五、東南亞最主要受到二個古文明大國影響？
- 六、華人為主的國家像新加坡、越南，受哪一國文明影響最深？
- 七、寮國、緬甸、泰國、柬埔寨，受哪一國文明影響最深？
- 八、南洋群島受到那些文明影響？

九、馬來西亞、印尼、菲律賓南部、汶萊，信奉甚麼教？

十、菲律賓北部、東帝汶，信奉甚麼教？

十一、東南亞和臺灣都曾被那些國家殖民？

十二、新加坡離中國很遠？為何也深受中國文化影響？

學習單三 東南亞產業活動

一、東南亞地區傳統農業以生產甚麼生產為主？

二、請列舉五種東南亞熱帶栽培業作物？

三、礦業以錫礦和石油為最大宗，錫礦是以那些國家為主？石油集中在那二個國家？

五、東南亞資源豐富，為何只集中在少數經濟作物，如林業、礦業，工業化腳步比較緩慢？

五、馬來西亞、菲律賓產業是？

六、泰國產業是？

七、越南產業是？

八、新加坡產業是？

九、東協十國是？

學習單四 東南亞的觀光旅遊發展

一、請寫出三項東南亞的觀光旅遊資源？

二、請寫出東南亞四個觀光景點？





三、雅加達 胡志民 新加坡 殖民時期建築分別受到哪國家影響最深？

四、台灣人喜歡到東南亞旅遊原因？

五、臺灣和東南亞關係越來越緊密原因？

學習單五 新加坡

1. () 位於馬來半島與蘇門答臘之間的海峽，現由新加坡、馬來西亞、印尼共同管轄，溝通太平洋與印度洋的國際水道是 (A) 臺灣海峽 (B) 直布羅陀海峽 (C) 英吉利海峽 (D) 麻六甲海峽。

2. () 請問新加坡國旗是 (A)  (B) 
(C) 新加坡  (D) 

3. () 麻六甲海峽常出現煙霧，是因為哪一國家常進行火耕
(A) 印尼 (B) 泰國 (C) 新加坡 (D) 馬來西亞。

4. () 位於馬來半島南端，扼守麻六甲海峽最南端出口是哪一國？ (A) 越南 (B) 印尼 (C) 新加坡 (D) 菲律賓。

5. () 1819 年英國不列顛東印度公司的哪一位人士與柔佛蘇丹
簽約，在新加坡建立交易站和殖民地，使新加坡逐漸發

展成繁榮的轉口港，由於地理位置特殊，新加坡之前一

直是英國的在東南亞的戰略據點。(A) 馬可波羅 (B) 利瑪竇 (C) 萊佛士 (D) 南懷仁。

6. () 西元 1641 年，荷蘭人獲柔佛蘇丹協助，擊退葡萄牙人統治麻六甲，是歐洲人在東南亞建立的第一個殖民地是 (A) 印尼 (B) 馬來西亞 (C) 新加坡 (D) 印度。

7. () 新加坡北面以甚麼海峽與馬來西亞為界 (A) 英吉利海峽 (B) 直布羅陀海峽 (C) 臺灣海峽 (D) 柔佛海峽。

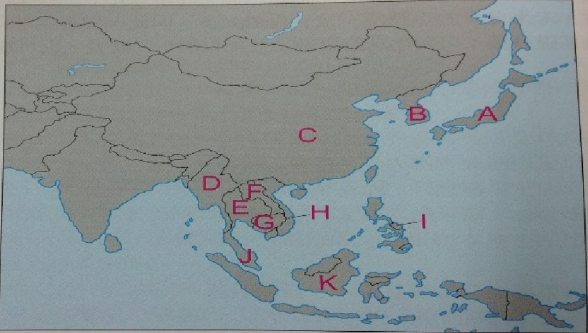
8. () 新加坡南面以甚麼海峽與印尼為界 (A) 英吉利海峽 (B) 直布羅陀海峽 (C) 新加坡海峽 (D) 柔佛海峽。

9. 請寫出你對新加坡的認識。

學習單六 馬來西亞

I. 填圖題：請參考以下地圖，將代號中的國家名稱填在左列空格中。

A.	(日本)
B.	(韓國)
C.	(中國)
D.	(緬甸)
E.	(泰國)
F.	(寮國)
G.	(柬埔寨)
H.	(越南)
I.	()
J.	()
K.	()



請問圖中 I 國家是_____ (填國名)，J 國家是_____

(填國名)，K 國家是_____ (填國名)。



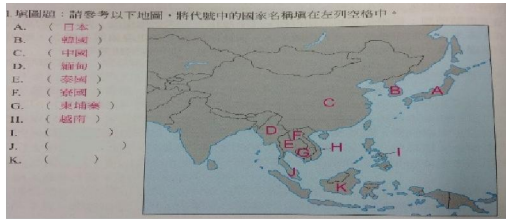
1. () 請問馬來西亞國旗是 (A)  (B)



(C) 新加坡  (D)

3. () 將新加坡摩天輪、印度泰姬瑪哈陵、中國紫禁城，亞洲 12 國重要地標小集中在「伊斯干達經濟特區」的國家是 (A) 印尼 (B) 泰國 (C) 新加坡 (D) 馬來西亞。
4. () 以下哪一民族沒有在馬來西亞 (MALAYSIA) ? (A) 華人 (B) 印度人 (C) 馬來人 (D) 俄羅斯人。
5. () 西元 1511 年，葡萄牙人入侵滿刺加王國，從此改稱麻六甲，是歐洲人在東南亞建立第一個殖民地 (A) 印尼 (B) 馬來西亞 (C) 越南 (D) 印度。
6. () 西元 1641 年，荷蘭人獲柔佛蘇丹協助，擊退葡萄牙人統治麻六甲，是歐洲人在東南亞建立的第一個殖民地是 (A) 印尼 (B) 馬來西亞 (C) 越南 (D) 印度。
7. () 馬來西亞和新加坡的國界，(A) 英吉利海峽 (B) 地中海 (C) 臺灣海峽 (D) 柔佛海峽。
8. () 馬來西亞的一種終身榮譽身分，不具有世襲和封邑的權力，叫做 (A) 總統 (B) 女王 (C) 拿督 (D) 市長。
9. 請寫出你對馬來西亞的認識。

學習單七 菲律賓







1. 請問圖中 I 國家是_____（填國名），J 國家是_____（填國名），K 國家是_____（填國名）。

2. () 菲律賓位於西太平洋，北隔呂宋海峽與哪一國相望 (A) 台灣 (B) 日本 (C) 韓國 (D) 俄羅斯。

3. () 菲律賓南隔西里伯斯海與與哪一國相望 (A) 越南 (B) 印尼 (C) 馬來西亞 (D) 新加坡。

4. () 菲律賓西隔南中國海與與哪一國相望 (A) 越南 (B) 泰國 (C) 緬甸 (D) 新加坡。

5. () 菲律賓法定貨幣叫做 (A) 馬克 (B) 披索 (C) 越南盾 (D) 韓國圓

6. () 菲律賓國旗是 (A)  (B) 
 (C) 新加坡  (D) 

7. () 1521 年，地理大發現，麥哲倫率領西班牙探險隊首次環球航海時抵達的國家是 (A) 印尼 (B) 泰國 (C) 菲律賓

(D) 馬來西亞。

8. () 1898 年，爆發美西戰爭，簽署「巴黎和約」，菲律賓成為哪一國殖民地 (A) 法國 (B) 英國 (C) 日本 (D) 美國。
9. () 二戰期間哪一國佔領菲律賓，建立傀儡政權，為菲律賓第二共和 (A) 法國 (B) 英國 (C) 日本 (D) 美國。
10. () 菲律賓首都是 (A) 檳城 (B) 吉隆坡 (C) 河內 (D) 馬尼拉。
11. () 菲律賓是天主教國家，天主教徒占菲律賓人口 83%，因菲律賓曾被哪一國家統治過 (A) 西班牙 (B) 美國 (C) 日本 (D) 荷蘭。
12. () 菲律賓最流行的公共交通工具是 (A) 普悠瑪 (B) 捷運 (C) 吉普尼
13. 請寫出你對菲律賓的認識。