

「公民與社會科素養導向紙筆測驗評量實作」試題修題單

組別：第____組 組員姓名：_____

原始試題	<p>試題一</p> <p>某國因強烈颶風侵襲，導致各地發生嚴重災情、民眾傷亡無數。若這樣的情況發生在我國，而政府認為應發布緊急命令加以因應，下列何者是其生效的必要條件之一？</p> <p>(A)經行政院發布 (B)經立法院追認 (C)經憲法法庭審理 (D)經公民投票複決</p> <p>答案：(B)</p> <p>試題來源：會考 104 年第 40 題</p>
問題檢視	
試題修正	
修題說明	

「公民與社會科素養導向紙筆測驗評量實作」試題修題單

組別：第____組 組員姓名：_____

<p style="text-align: center;">原始試題</p>	<p>試題二</p> <p>某國受到人口結構改變的衝擊，長期照護、專屬旅遊、到府清潔、就醫接送等「陪伴商機」也應運而生。圖(十八)為該國不同時期的人口金字塔，該國出現上述陪伴商機最可能是因為其人口結構如何轉變？</p> <p>(A)由甲轉變成乙 (B)由甲轉變成丙 (C)由乙轉變成甲 (D)由乙轉變成丙</p> <p>答案：(C)</p> <p>試題來源：會考 106 年第 48 題</p> <div data-bbox="916 383 1426 696" style="text-align: center;"> <p>圖(十八)</p> </div>
<p style="text-align: center;">問題檢視</p>	
<p style="text-align: center;">試題修正</p>	
<p style="text-align: center;">修題說明</p>	







「公民與社會科素養導向紙筆測驗評量實作」試題修題單

組別：第____組 組員姓名：_____

原始試題	<p>試題三</p> <p>某官員在接受質詢時說：「近來因國際投資客將大筆資金投入我國金融市場，使得新臺幣相對美元大幅升值，為避免過度升值對我國出口貿易產生不利影響，我們將會適時介入影響新臺幣的匯率、控制貨幣數量，以維持物價的穩定。」下列何者最可能是上述官員任職的政府機關？</p> <p>(A)財政部 (B)經濟部 (C)臺灣銀行 (D)中央銀行</p> <p>答案：(D)</p> <p>試題來源：會考 105 年第 17 題</p>
問題檢視	
試題修正	
修題說明	

「公民與社會科素養導向紙筆測驗評量實作」試題修題單

組別：第____組 組員姓名：_____

<p>原始試題</p>	<p>試題四 圖(五)是呈現某古代文明政治運作特色的示意圖，此古文明最可能是下列何者？ (A)蘇美 (B)埃及 (C)雅典 (D)波斯</p> <div data-bbox="981 416 1433 696" style="border: 1px solid black; padding: 5px;"> <p style="text-align: center;">公民大會 具有公民資格的成年男子參加</p> <table border="1" style="width: 100%; border-collapse: collapse;"> <tr> <td style="width: 50%; text-align: center;"> <p>每年抽籤</p>  </td> <td style="width: 50%; text-align: center;"> <p>投票表決</p>  </td> </tr> <tr> <td style="text-align: center;"> <p>為避免權力集中於少數人，大多數官員透過抽籤產生。</p> </td> <td style="text-align: center;"> <p>決定是否放逐有可能危害城邦的人。</p> </td> </tr> </table> </div> <p style="text-align: center;">圖(五)</p> <p>答案：(D)</p> <p>試題來源：會考 107 年第 8 題</p>	<p>每年抽籤</p> 	<p>投票表決</p> 	<p>為避免權力集中於少數人，大多數官員透過抽籤產生。</p>	<p>決定是否放逐有可能危害城邦的人。</p>
<p>每年抽籤</p> 	<p>投票表決</p> 				
<p>為避免權力集中於少數人，大多數官員透過抽籤產生。</p>	<p>決定是否放逐有可能危害城邦的人。</p>				
<p>問題檢視</p>					
<p>試題修正</p>					
<p>修題說明</p>					

「公民與社會科素養導向紙筆測驗評量實作」試題修題單

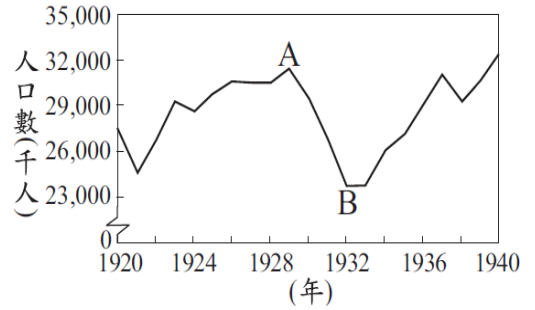
組別：第____組 組員姓名：_____

原始試題	<p>試題五</p> <p>13 歲的小婷因羨慕朋友擁有最新型的手機，於是趁體育課偷走同學留在書包中的零用錢，行竊時被返回班上的同學撞見，受害學生家長獲知後決定報警處理。根據上述內容判斷，小婷最可能會受到下列何種處分？</p> <p>(A)罰鍰一千元 (B)拘役二十五日 (C)罰金一千五百元 (D)假日生活輔導四次</p> <p>答案：(D)</p> <p>試題來源：會考 106 年第 12 題</p>
問題檢視	
試題修正	
修題說明	

「公民與社會科素養導向紙筆測驗評量實作」試題修題單

組別：第____組 組員姓名：_____

<p style="text-align: center;">原始試題</p>	<p>試題六</p> <p>圖(二十一)是 1920 年至 1940 年美國「非農業就業人口數」的統計圖，其中由 A 至 B 的變化，主要與下列何者有關？</p> <p>(A)黑人奴隸獲得解放，投入工業生產 (B)政府施行福利政策，保障勞工生活 (C)國家投入大戰，青年至海外作戰 (D)銀行與工廠倒閉，社會經濟衰退</p> <p>答案：(D)</p> <p>試題來源：會考 107 年第 53 題</p>
<p style="text-align: center;">問題檢視</p>	
<p style="text-align: center;">試題修正</p>	
<p style="text-align: center;">修題說明</p>	



圖(二十一)